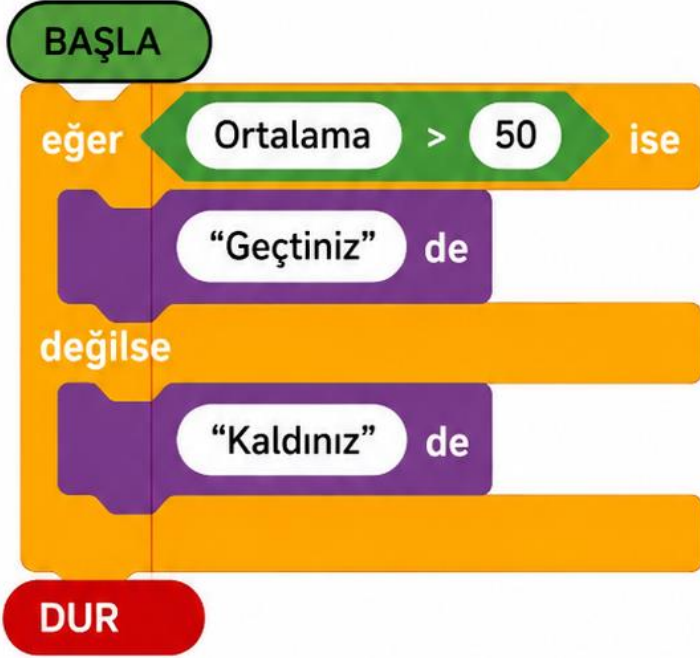
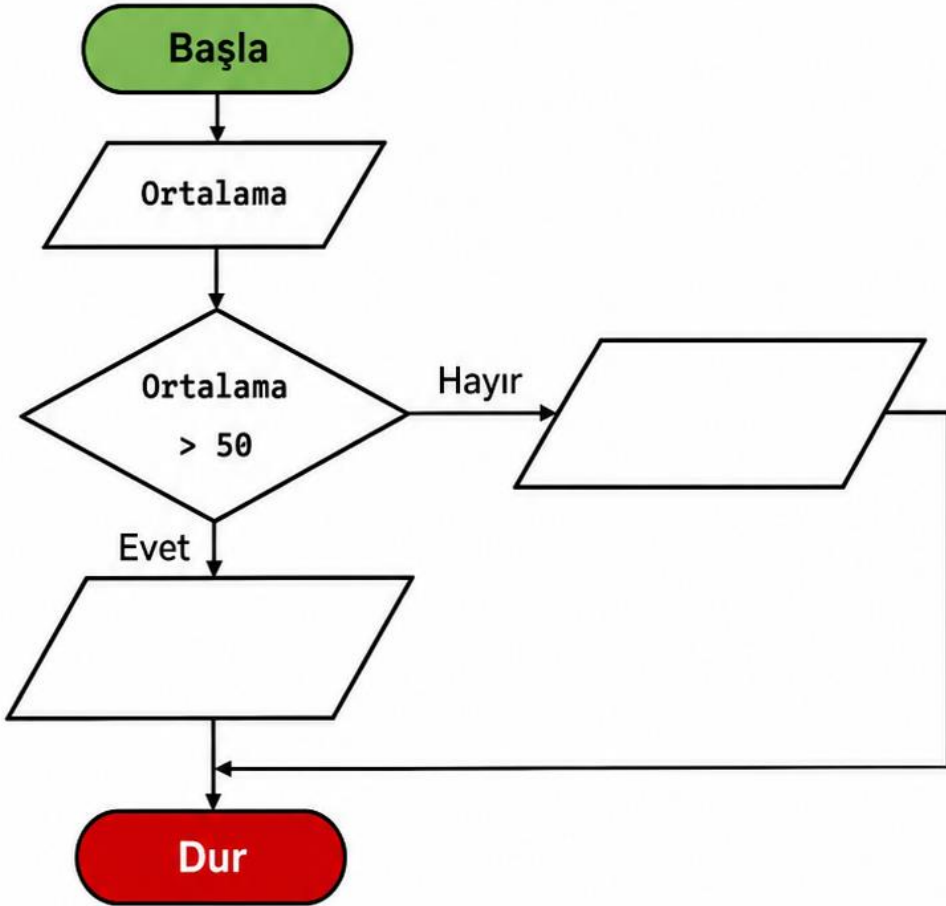


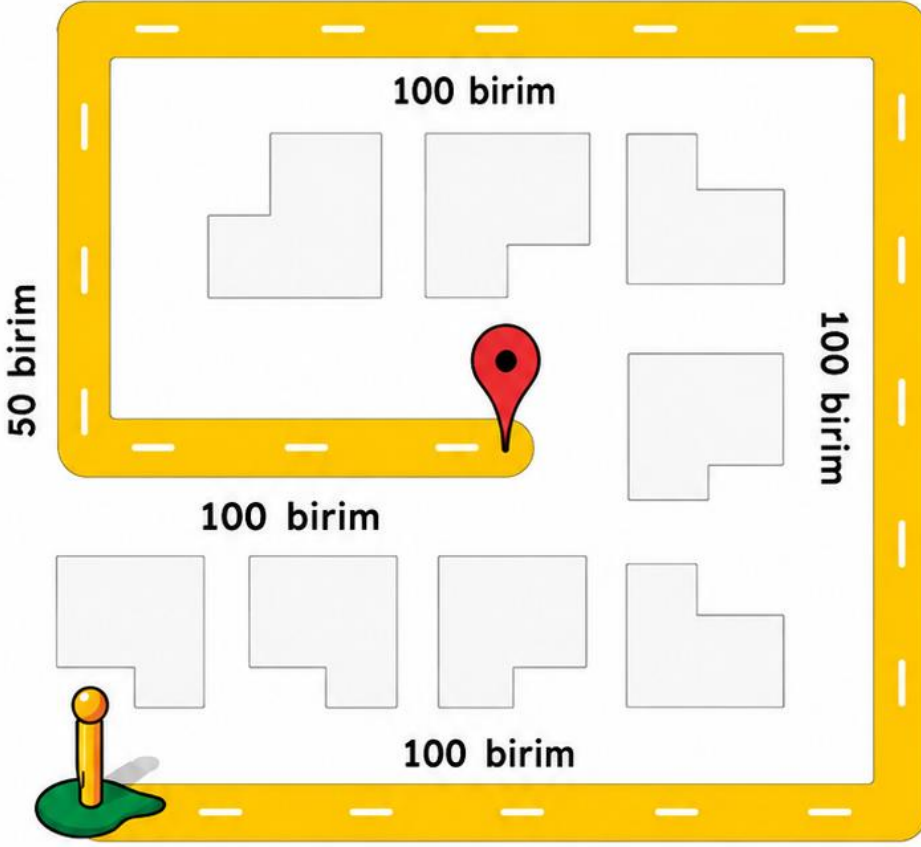
EĞER - İSE ALGORİTMASI



Yanda verilen algoritmanın akış şemasında eksik bırakılan simgelerin içeriğini tamamlayabilir misin?



DÖNGÜ YAPISI İLE HEDEFE ULAŞALIM



Astronotumuzu hedefe ulaştıran algoritmada döngünün kaç kez tekrar etmesi gerekir işaretleyebilir misin?

3

```
? kez tekrarla
yap
  şu kadar ileri git 100
  şu kadar sola dön 90°
şu kadar ileri git 50
şu kadar sola dön 90°
şu kadar ileri git 50
```

4

```
? kez tekrarla
yap
  şu kadar ileri git 100
  şu kadar sola dön 90°
şu kadar ileri git 50
şu kadar sola dön 90°
şu kadar ileri git 50
```

5

```
? kez tekrarla
yap
  şu kadar ileri git 100
  şu kadar sola dön 90°
şu kadar ileri git 50
şu kadar sola dön 90°
şu kadar ileri git 50
```